

〔社 会〕

○ 実施時間 【10:40~11:20】(40分)

○ 次の注意をよく読んでおくこと。

- (1) 「始め」の合図があるまで問題用紙を開かないこと。
- (2) 問題は **1** ~ **6**、17 ページまであります。
- (3) 答えはすべて解答用紙の解答らんにはっきりと、ていねいに書きなさい。
- (4) 答えを直すときは、きれいに消してから書きなさい。
- (5) 内容に関する質問は受け付けません。
- (6) 気分が悪くなったり、トイレに行きたくなったりしたら、手をあげて監督^{かんとく}の先生に合図しなさい。
- (7) 「終わり」の合図があつたら、直ちに筆記用具を置き、解答用紙が回収されるまで待っていなさい。
- (8) 解答上の注意
字数指定のあるものは、句読点〔。、〕も一字と数えること。

受験番号		氏名	
------	--	----	--

1 次の文章を読み、あとの問いに答えなさい。

- (1) 隠岐島は現在の島根県に位置し、複数の島々からなる諸島の総称そうしやうです。14世紀前半、後醍醐天皇は衰えを見せていたa 幕府を倒し、天皇中心の政権を取り戻そうとしましたが失敗し、この島に流されました。天皇はその後、隠岐から京都へ帰ってb 新しい政治を行いました。
- (2) c この島はかつて南半分がわが国の領土でした。江戸時代、幕府の命令で【 】がこの島を調査して、島であることをつきとめました。その人物は海峡名として残っています。太平洋戦争末期には約40万人の日本人が住んでいましたが、d ソ連軍の侵攻しんこうによって島を追われることになりました。
- (3) 壱岐島は現在の長崎県にあり、邪馬台国について書かれたe 中国の歴史書には「一大国」と言う国があったと記されており、壱岐島ではないかとする説があります。また鎌倉時代、f 2度にわたる元軍の日本への侵攻の際、この島も戦場となり多くの犠牲者ぎせいしやを出しました。
- (4) この島は、江戸時代には貨幣である小判を造るための金を豊富に産したため、幕府は直轄領ちよつかつりやうとして支配していました。後にはg 北前船の寄港地としてにぎわいました。また古くから罪人の流刑の島としても知られ、鎌倉仏教の僧h 日蓮や、能を大成したi 世阿弥も流されました。
- (5) この島は現在の長崎県にあり、朝鮮半島に近いことから、朝鮮と日本との中継地として、重要な役割を果たしてきました。特に13世紀末から14世紀ころ、この島がj 東アジア地域で活動した海賊かいぞくの根拠地こんきよちの1つとなり、その討伐とうばつをきっかけに朝鮮との通交が始まりました。鎖国体制下の江戸時代においても、この島の藩主を通じてk 両国の交流がおこなわれました。

問1 空らん【 】に入る最も適当な人物名を漢字で答えなさい。

問2 文(2)の島名を漢字で答えなさい。

問3 下線部aについて、幕府の名称めいしやうを漢字で答えなさい。

問4 下線部bについて、このことを何と言いますか、解答らんに合わせて漢字で答えなさい。

問5 下線部cについて、何という戦いの結果、下線部のようになったのですか、戦争名を漢字で答えなさい。

問6 下線部dについて、連合国の首脳が集まって、ソ連の対日参戦を決定した会談の場所を下から1つ選び、記号で答えなさい。

- ア. パリ イ. ヴェルサイユ ウ. ワシントン
エ. ヤルタ オ. ポーツマス

問7 下線部eについて、中国の歴史書の名称を下から1つ選び、記号で答えなさい。

- ア. 『隋書』倭国伝 イ. 『漢書』地理志 ウ. 『魏志』倭人伝
エ. 『後漢書』東夷伝 オ. 『宋書』倭国伝

問8 下線部fについて、1回目の戦いを何と言いますか、解答らんに合わせて漢字で答えなさい。

問9 下線部gについて、北前船は蝦夷地から日本海を通過して大阪を結ぶ船です。蝦夷地から運ばれてくる品物としてふさわしいものを下から1つ選び、記号で答えなさい。

- ア. 生糸 イ. 砂糖 ウ. 昆布 エ. 綿花 オ. 塩

問10 下線部 h について、日蓮に関して述べた文として正しいものを下から1つ選び、記号で答えなさい。

- ア. 「南無妙法蓮華經」と題目を唱えれば、すべての人が救われると説いた。
- イ. 念仏を唱えながら踊ることで、病気や災いを取り除けると説いた。
- ウ. 座禅を中心とした修行によって、悟りに達すると説いた。
- エ. 「南無阿弥陀仏」と念仏を唱えれば、すべての人が救われると説いた。

問11 下線部 i について、世阿弥と同時代のことがらに関して述べた文として正しいものを下から1つ選び、記号で答えなさい。

- ア. 墾田永年私財法が出されると、有力な貴族や寺社が私有地である荘園をもつようになった。
- イ. 御家人の権利や義務・裁判などについてやさしい文章でまとめられた、御成敗式目が定められた。
- ウ. 飢饉の後幕府は都市に出かせぎに来た百姓を農村に帰し、物価引き下げのため株仲間を解散させた。
- エ. 守護が勢力を伸ばし、おさめている国を自分の領地とするようになった守護大名が台頭した。

問12 下線部 j について、このような海賊のことを何と呼びますか、漢字で答えなさい。

問13 下線部 k について、朝鮮から将軍の代がわりに祝いのためつかわされた使者を何と言いますか、漢字で答えなさい。

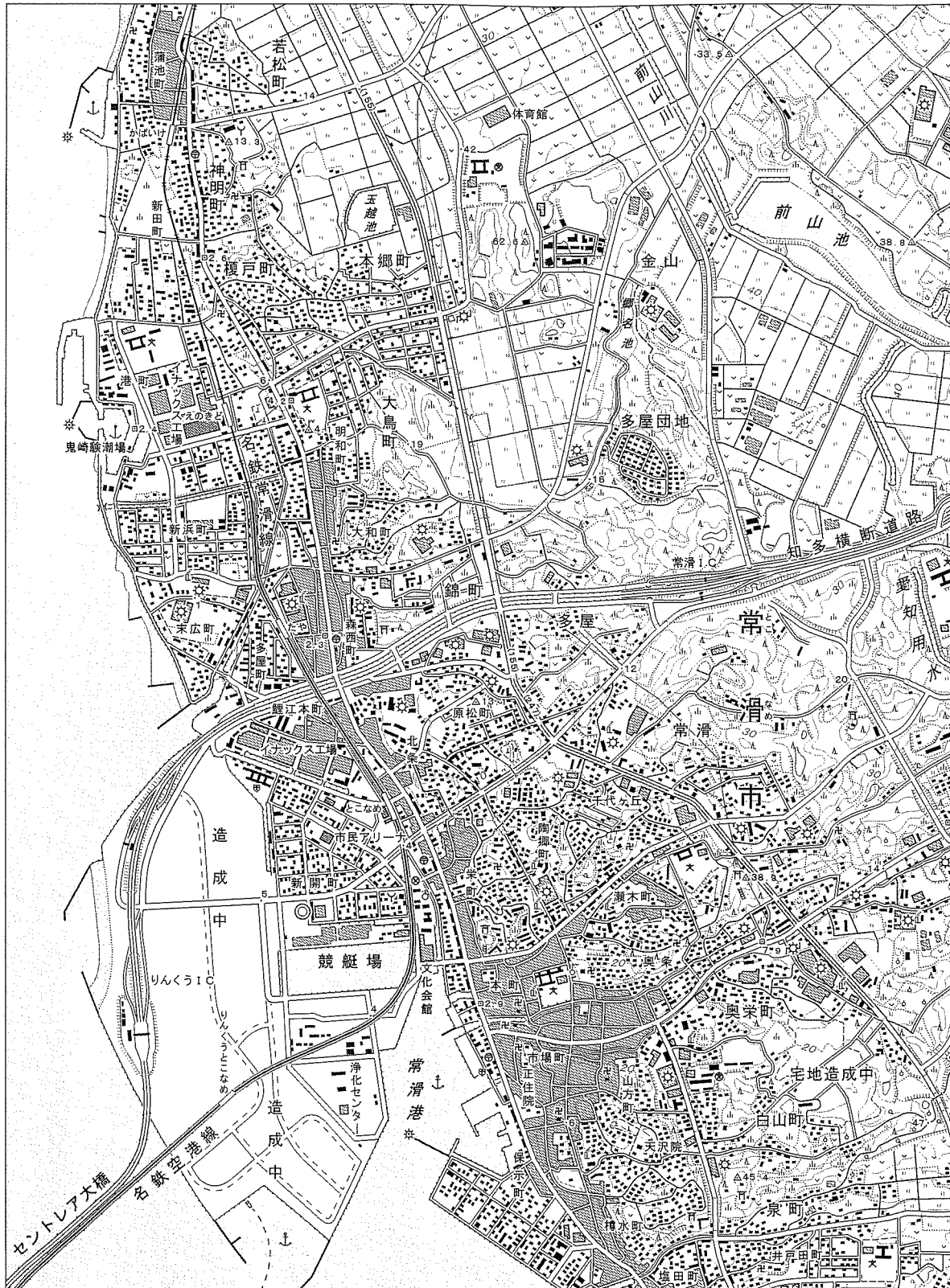
2 下の絵に関してあとの問いに答えなさい。



問1 上の絵は1887年3月に発行された新聞のさし絵です。当時はこのような場面が各地で見られました。その背景には国会開設をもとめる運動の高まりがありました。この運動を何と言いますか、解答らんに合わせて、漢字4字で答えなさい。

問2 政府は、この運動を取り締まろうとしていました。それは当時の運動がどのような特徴をもっていたからだと考えられますか、絵の状況を^{じょうきょう}見て答えなさい。

3 地形図（25000分の1「常滑」国土地理院平成17年2月17日発行）をみて、あとの問いに答えなさい。



問1 「とこなめ」駅からみて「りんくうとこなめ」駅は、どの方角にありますか、
 適当なものを下から1つ選び、記号で答えなさい。

- ア. 北 イ. 北東 ウ. 東 エ. 南東
 オ. 南 カ. 南西 キ. 西 ク. 北西

問2 下の文の中で内容が誤っているものを1つ選び、記号で答えなさい。

- ア. 地形図上にある警察署は1つである。
 イ. 地形図上にある消防署は2つである。
 ウ. 地形図上にある高等学校は3つである。
 エ. 地形図上にある郵便局は4つである。

問3 「鬼崎験潮場」と「体育館」の間の標高差として、もっとも近いものを下から
 1つ選び、記号で答えなさい。

- ア. 20m イ. 40m ウ. 60m
 エ. 80m オ. 100m

問4 地形図上には多くのため池が見られます。これはこの地域に水を供給することを
 目的に作られたものです。この地域は長年水不足が課題になっていました。この
 課題を解消するために建設された施設が地形図上にあります。この施設は木曾
 川から取水した水をこの地域まで運ぶために作られました。その名前を漢字で答
 えなさい。

問5 下の航空写真に写っている範囲は地形図の一部にあたるものです。この写真には常滑市の沖合に建設された「中部国際空港」のために作られた埋め立て地が含まれています。この写真と地形図を比較して誤っている文を下から1つ選び、記号で答えなさい。なお、この写真は地形図が作成された時よりもあとの時期に撮影されたものです。

ア. 「中部国際空港」と本土を結ぶ鉄道と道路の橋は地形図にも写真にもものっている。

イ. 「りんくうとこなめ」駅の周辺は、地形図では造成中であるが、写真では建造物が見られる。

ウ. 「りんくうIC」の近くには地形図では砂浜となっており、写真でもその位置に砂浜が見られる。

エ. 「競艇場」は地形図にのっているが、写真では埋め立てられて、なくなっている。



↓
「中部国際空港」に至る

(愛知県企業庁資料より)

このページに設問はありません

4 3の地形図に関連して、次の文章を読み、あとの問いに答えなさい。

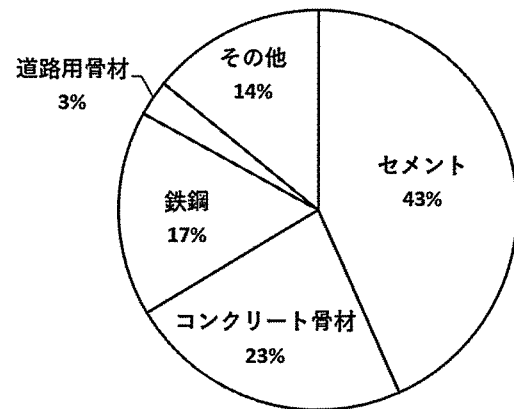
地形図中の常滑市では、付近で原料となる土がよく採れたことから古くからa 焼き物が盛んで、常滑焼は全国的に知られています。常滑市は、b 空港の開港によって観光客数が増え、常滑焼は海外からの観光客に特に人気のお土産となっています。日本では近年、近隣のアジア地域からの観光客数が増加しており、海外からの観光客に向けて様々な工夫が行われています。

問1 下線部aについて、焼き物とその主な産地である都道府県の組み合わせとして、**適当でないもの**を下から1つ選び、記号で答えなさい。

- ア. 信楽焼—滋賀県 イ. 益子焼—栃木県 ウ. 有田焼—佐賀県
- エ. 九谷焼—福井県 オ. 清水焼—京都府

問2 次のグラフは、焼き物にも使われる、ある鉱産資源の用途別の構成比（2014年）をあらわしています。この鉱産資源は何ですか、**適当なもの**を下から1つ選び、記号で答えなさい。

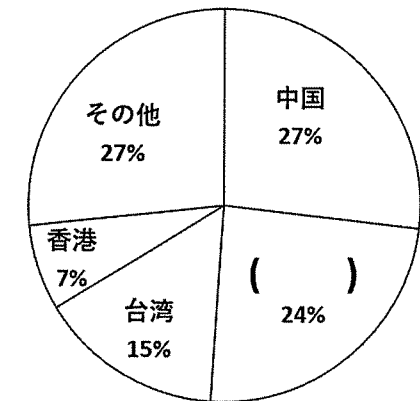
- ア. 石灰石
- イ. 銅
- ウ. 石炭
- エ. ポーキサイト
- オ. 鉄鉱石



(経済産業省ホームページより作成)

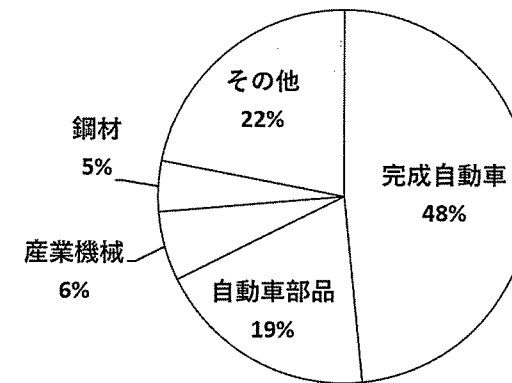
問3 下線部bについて、次のグラフは、日本に来た外国人の国・地域別の内訳（2018年）をあらわしています。グラフ中の()にあてはまる国を下から1つ選び、記号で答えなさい。

- ア. インド
- イ. アメリカ合衆国
- ウ. オーストラリア
- エ. 韓国
- オ. フランス



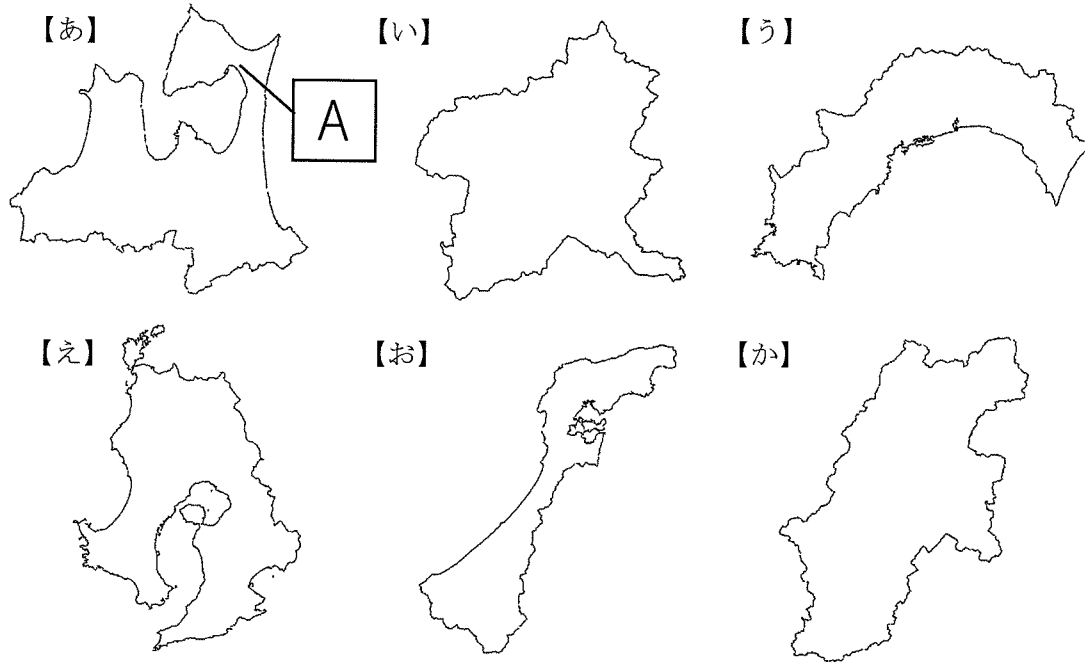
(日本政府観光局資料より作成)

問4 次のグラフは、常滑市のある愛知県の最大の港である名古屋港の主な輸出品目とその割合（2018年）をあらわしています。このような特徴を持つ理由を答えなさい。



(名古屋港管理組合ホームページより作成)

5 【あ】～【か】の都道府県について、東京都に住む花子さんと太郎さんが話しています。次の会話文を読み、あとの問いに答えなさい。ただし、地図の縮尺は編集されているため、面積や方角は正しくないことと、一部の島などは省略されていることに気を付けること。



花子さん：6つの都道府県があるね。この中で海に面していないのは(①)の2つだね。

太郎さん：そうだね。その2つの都道府県は隣り合っていて、都道府県の境目にまたがるように、2020年6月に噴火警戒レベルが1から2に引き上げられた(②)があるよ。(②)のふもとには、高原野菜の栽培が盛んなことで有名な孺恋村があるよ。

花子さん：火山活動の情報には注意しておいた方がよさそうだね。火山といえば、【あ】の都道府県に行ったときに、A半島には恐山という火山があることや、秋田県との県境にある湖はカルデラ湖だということを学んだよ。

太郎さん：日本は火山大国だって先生が言っていたね。僕は【え】の都道府県に行ったことがあるけど、ちょうどa 火山灰が多い日で大変だったよ。

この中で都道府県名と都道府県庁所在地名が違うのは【い】と【お】だよ。花子さんは行ったことがある？

花子さん：【お】の都道府県庁所在地の(③)市には行ったことがあるよ。2015年に開通した新幹線に乗って行ったんだ。(③)市には日本三名園の1つがあるから、太郎さんもぜひ行ってみたいよ。

太郎さん：僕も行ってみたいな。いつ行ったの？【お】の都道府県は、冬の気候がきびしいと聞いたことがあるよ。

花子さん：私は夏に遊びに行ったから、東京と同じくらい暑かったよ。けれど、冬は北西から吹く(④)の影響で雪が多くなるんだよね。

太郎さん：うん。(④)は、夏になると南東から吹くから、【う】の都道府県では、台風や梅雨の影響も合わさって夏の降水量がとても多くなるんだ。【う】の都道府県庁所在地の年間降水量は、東京と比べると1000mm以上も多いよ。

花子さん：大きな違いだね。同じ太平洋側の気候でも、そんなに違いがあるんだね。

問1 (①)にあてはまる都道府県を、【あ】～【か】から2つ選びなさい。

問2 (②)にあてはまる火山の名前を下から1つ選び、記号で答えなさい。

ア. 雲仙普賢岳 イ. 磐梯山 ウ. 阿蘇山 エ. 大雪山 オ. 浅間山

問3 Aの半島名を、解答らんに合わせて答えなさい。

問4 下線部aについて、【え】の都道府県には火山灰がつもってできた台地があります。その台地における農業の特徴として正しいものを下から1つ選び、記号で答えなさい。

ア. 牧ノ原台地では、水はけと日当たりのよい斜面で茶の栽培がさかんで、茶の生産は全都道府県中1位である。

イ. 牧ノ原台地では、水はけのよい台地上で、畜産や茶などの畑作がさかんで、サツマイモの生産は全都道府県中1位である。

ウ. シラス台地では、水はけと日当たりのよい斜面で茶の栽培がさかんで、茶の生産は全都道府県中1位である。

エ. シラス台地では、水はけのよい台地上で、畜産や茶などの畑作がさかんで、サツマイモの生産は全都道府県中1位である。

問5 (③)にあてはまる都道府県庁所在地名を、漢字で答えなさい。

問6 【う】の都道府県と(④)にあてはまる語句の組み合わせとして正しいものを下から1つ選び、記号で答えなさい。

	【う】の都道府県	(④)にあてはまる語句
ア	高知県	季節風
イ	愛媛県	季節風
ウ	高知県	偏西風
エ	愛媛県	偏西風
オ	高知県	やませ
カ	愛媛県	やませ

このページに設問はありません

6 次の文章を読み、あとの問いに答えなさい。

2020年は、新型コロナウイルスの世界的な感染拡大が、人々の生活に大きな変化をもたらしました。獨協中学校でも、映像の配信による授業を行ったり、行事や部活動が制限されたりと、今までにない1年を経験しました。

人々の移動が制限される中で、様々な行政サービスのデジタル化・オンライン化に関する話題が今まで以上に目立った1年でした。東京都では、手続きのデジタル化を基本原則と明記した「東京デジタルファースト a 条例」が可決されました。福岡市では、b 保育所の入所手続きなどの一定の行政手続きにおいて、ハンコを押す義務を全廃することを発表しました。国や地方自治体の行政に広く利用される(①)年に1度の国勢調査では、前回の調査から始まったオンラインによる回答の割合が増加しました。

感染拡大の影響は、様々な分野に影響しています。経済協力開発機構(OECD)と国連食糧農業機関(FAO)は、新型コロナウイルスの感染拡大が、世界の食糧供給を不安定にさせる要因の1つになっていることを発表しました。感染症の影響に、バッタの大量発生や c 森林火災、異常気象などが重なることによって、食糧の安定した供給が難しくなるということです。

日本では、2019年のカロリーベースによる食料自給率が(②)%でした。過去最低を記録した2018年より1%上昇したものの、依然として低い水準が続いています。将来起こるかもしれない食糧危機に対して、d 国内での安定した食料の供給の必要性を再確認した年にもなりました。

問1 下線部 a について、条例は有権者の50分の1以上の署名で制定・改正・廃止を要求できます。国の政治に国民が参加する方法は一般には選挙しかありませんが、地方自治は、より積極的に住民が参加できるよう、ある権利が与えられています。この権利を何と言いますか、解答らんには合うように漢字で答えなさい。

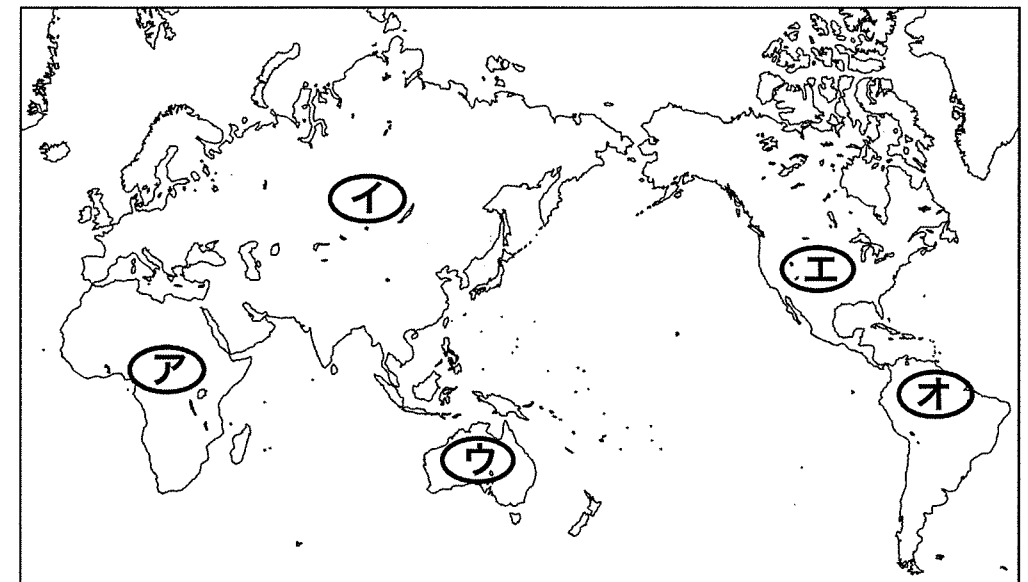
問2 下線部 b の保育所とは、都道府県知事によって認可された保育施設のことで、各市区町村が受付窓口となります。このように、地方自治体が行う仕事として誤っているものを下から1つ選び、記号で答えなさい。

- ア. 上下水道の整備 イ. 公立学校の設置 ウ. ごみ収集の実施
エ. 地方裁判所の設置 オ. 公園や緑地の整備

問3 (①)(②)に入る数字の組み合わせとして正しいものを下から1つ選び、記号で答えなさい。

	(①)	(②)
ア	5	28
イ	5	38
ウ	5	48
エ	10	28
オ	10	38
カ	10	48

問4 下線部 c について、アマゾンの森林火災への関心が高まっていますが、アマゾンの場所として正しいものを下の地図から1つ選び、記号で答えなさい。



問5 下線部 d に関連して、国内での食料の生産などに関して中心的な仕事を担っている省として正しいものを下から1つ選び、記号で答えなさい。

- ア. 文部科学省 イ. 農林水産省 ウ. 経済産業省
エ. 国土交通省 オ. 厚生労働省