

## 〔社 会〕

○ 実施時間 【10:40～11:20】(40分)

○ 次の注意をよく読んでおくこと。

- (1) 「始め」の合図があるまで問題用紙を開かないこと。
- (2) 問題は 1 ～ 4、13 ページまであります。
- (3) 答えはすべて解答用紙の解答らんにはっきりと、ていねいに書きなさい。
- (4) 答えを直すときは、きれいに消してから書きなさい。
- (5) 内容に関する質問は受け付けません。
- (6) 気分が悪くなったり、トイレに行きたくなったりしたら、手をあげて監督かんとくの先生に合図しなさい。
- (7) 「終わり」の合図があったら、直ちに筆記用具を置き、解答用紙が回収されるまで待っていなさい。
- (8) 解答上の注意  
字数指定のあるものは、句読点〔。、〕も一字と数えること。

受験 番号		氏 名	
----------	--	--------	--

1 地形図（「25000分の1「延岡」国土地理院平成13年6月1日発行」）を見て、あとの問いに答えなさい。



問1 「城山」の頂上と「愛宕山」の頂上では、何mの標高差がありますか、もっとも近いものを下から1つ選び、記号で答えなさい。

- ア. 200m    イ. 250m    ウ. 300m  
エ. 350m    オ. 400m

問2 「大瀬橋」から「延岡大橋」までは、地形図上では6cmあります。これは実際の距離では何mになりますか。

問3 「みなみのべおか」駅から見て「体育館」はどの方角にありますか、適当なものを下から1つ選び、記号で答えなさい。

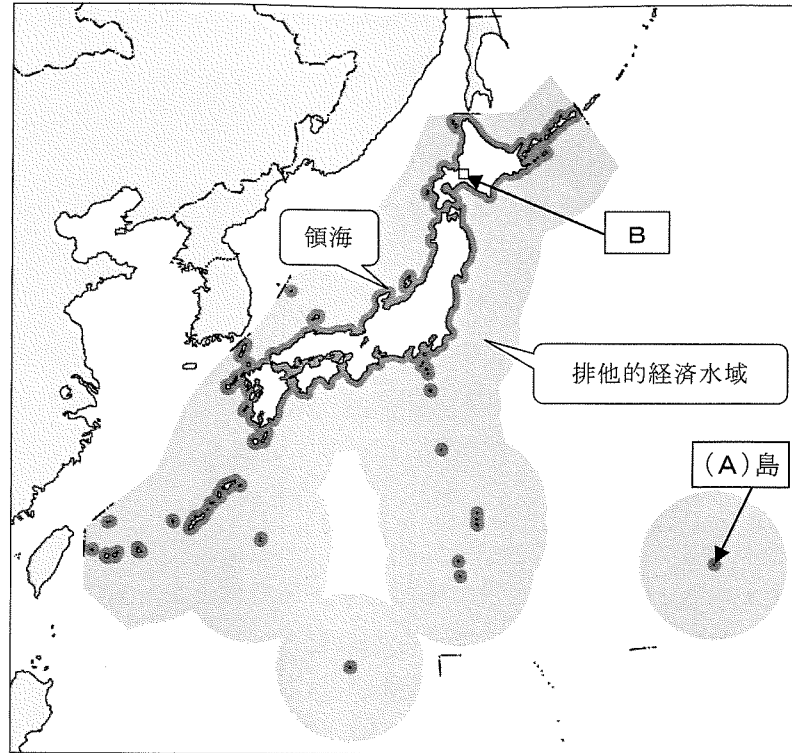
- ア. 北    イ. 北東    ウ. 東    エ. 南東  
オ. 南    カ. 南西    キ. 西    ク. 北西

問4 地形図上のAとBは同じ高さの場所です。X-AとX-Bではどちらの方が、より傾斜が大きいと言えますか、適当なものを下から1つ選び、記号で答えなさい。

- ア. X-Aの方がX-Bより傾斜が大きい。  
イ. X-Bの方がX-Aより傾斜が大きい。  
ウ. X-AとX-Bの傾斜はまったく同じである。

問5 日本には「企業城下町」と呼ばれる都市がいくつかあります。代表的なものは、茨城県の日立市です。そして延岡市も「企業城下町」の1つとされています。そのように言われる理由を、地形図上から読みとって説明しなさい。

2 次の地図と文章を読み、あとの問いに答えなさい。



日本は、ユーラシア大陸の東のふちに沿って、南北に約3000kmにわたって弓の形にのびた島国です。日本列島は大陸と海洋のプレートがぶつかり合うところにあり、4つの大きな島とその周りの約6900の島々から成り立っています。東の端は( A )島、南の端は沖ノ島で、共に太平洋上にある島です。

日本の国土面積は約38万 km<sup>2</sup>で世界の国の中では第61位の広さで、世界に占める割合は0.25%にすぎません。しかし、日本の活火山の数は世界の7.1%、マグニチュード6以上の地震回数は世界の22.9%にのぼり、日本は世界有数の地震・a 火山大国でもあります。

また、日本は海岸線が複雑で長いことも特徴です。b 国連海洋法条約で定める沿岸から [あ] 海里(1海里は1852m)までの領海と沿岸から200海里までから [あ] 海里を除いた c 排他的経済水域を合わせた面積は、d 世界第6位の広さとなっています。ただし、日本と周りの国々との間には領土をめぐる問題があります。ロシアとの北方領土問題をはじめ、日本の標準時子午線の東経 [い] 度の経線より西側の日本海や東シナ海では、韓国と [う] の領有について、また中国などと尖閣諸島の領有について主張が異なっています。

問1 空らん( A )に入る適当な島の名前を、解答らんに合わせて答えなさい。

問2 空らん [あ] と [い] に入る適当な数字をそれぞれ答えなさい。

問3 空らん [う] に入る適当な語句を漢字で答えなさい。

問4 下線部 a について、下の文章を読んで当てはまる火山の名前を漢字で答えなさい。

この火山は静岡・山梨両県境にあり、円錐形の整った山体と長い裾野を持っている。古くから信仰の対象とされ、和歌や絵画の題材にもされた文化的意義が評価され、2013年に世界文化遺産に登録された。

問5 下線部 a について、下の①と②の文章はある都道府県の特徴についてそれぞれ説明したものです。当てはまる都道府県名を漢字で答えなさい。

① この都道府県は、その東部に火山灰層に覆われた根釧台地と呼ばれる台地が広がっている。夏に濃霧がよく発生し、気温があまり上がらないため、稲作や畑作には適していないが、大規模な酪農が盛んに行われている。

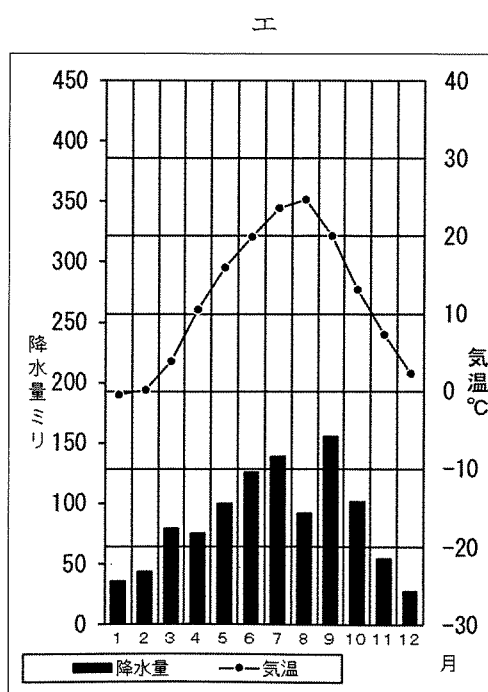
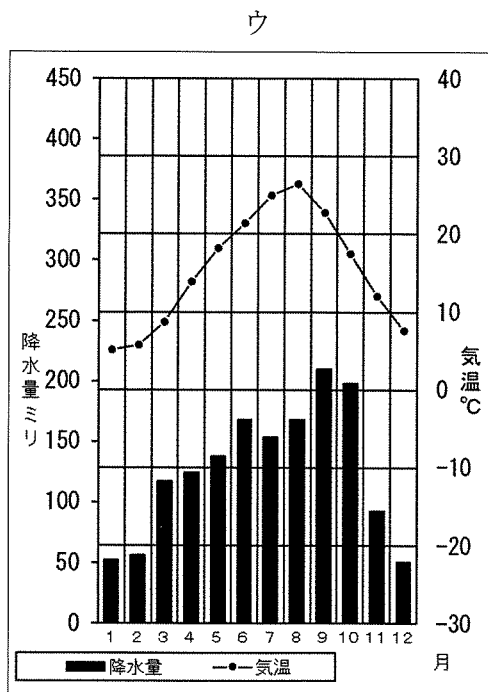
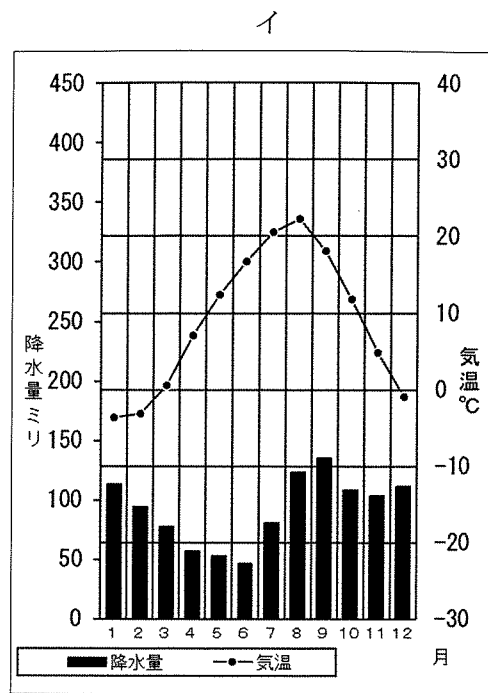
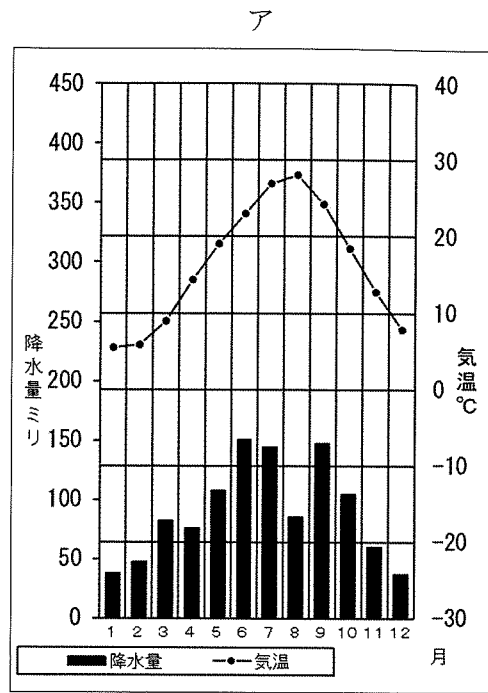
② この都道府県は、火山活動が活発な地にあり、温泉の源泉数と湧出量ともに全国第1位である。また、地下から湧き出てくる蒸気と熱水を使った地熱発電の発電電力量も全国第1位である。海岸部は、北部では瀬戸内海に面し、中部では豊後水道をはさんで四国地方に接している。

問6 下線部 b について、条約を締結する権限を持っている国の機関はどこですか、漢字で答えなさい。

問7 下線部 c について、( A ) 島があることで、日本はおよそどれくらいの面積の漁場を確保していますか、下から1つ選び、記号で答えなさい。

- ア. 10万 km<sup>2</sup>      イ. 20万 km<sup>2</sup>      ウ. 30万 km<sup>2</sup>  
エ. 40万 km<sup>2</sup>      オ. 50万 km<sup>2</sup>

問8 地図中のBの都市の雨温図を下から1つ選び、記号で答えなさい。



問9 下線部dについて、次の【表1】・【表2】中の(あ)と(い)に入る適当な国名をそれぞれ下から1つ選び、記号で答えなさい。

- ア. 中国                      イ. インド                      ウ. カナダ  
エ. アメリカ合衆国        オ. ブラジル

【表1】領海および排他的経済水域の面積(上位6か国)

	国名	領海および排他的経済水域の面積(万 km <sup>2</sup> )	国土の面積の順位
1位	(あ)	870	3位
2位	ロシア	790	1位
3位	オーストラリア	750	6位
4位	インドネシア	590	15位
5位	(い)	570	2位
6位	日本	447	61位

(出典:内閣府 国境離島WEBページ)

【表2】領海および排他的経済水域の海水体積(上位6か国)

	国名	領海および排他的経済水域の海水体積(百万 km <sup>3</sup> )	国土の面積の順位
1位	(あ)	33.8	3位
2位	オーストラリア	18.2	6位
3位	キリバス	16.4	169位
4位	日本	15.8	61位
5位	インドネシア	12.7	15位
6位	チリ	12.5	36位

(出典:内閣府 国境離島WEBページ)

問10 問9の【表1】・【表2】によると、日本は領海と排他的経済水域を合わせた面積では世界第6位ですが、その海水体積では世界第4位になります。それはどういふことですか、説明しなさい。

- 3 2020年は、7月に東京都知事が、9月には内閣総理大臣がそれぞれ選出されました。次の文は、内閣総理大臣と地方公共団体の首長の選出に関わる日本国憲法の条文の一部です。空らん（ A ）と（ B ）に入る適切な語句をそれぞれ下から1つ選び、記号で答えなさい。

第67条

第1項 内閣総理大臣は、国会議員の中から国会の議決で、これを（ A ）する。この（ A ）は、他のすべての案件に先だつて、これを行ふ。

第93条

第2項 地方公共団体の長、その議会の議員及び法律の定めるその他の<sup>りいん</sup>吏員は、その地方公共団体の住民が、直接これを（ B ）する。

- ア. 指名      イ. <sup>りいせん</sup>推薦      ウ. 選挙  
エ. 認証      オ. 任命

このページに設問はありません

4 次の文章を読み、あとの問いに答えなさい。

[1]

古墳がさかんに作られた古墳時代には、a 朝鮮半島から日本に移り住む渡来人と呼ばれる人々が登場しました。彼らによって、土木工事や金属加工、絹織物、須恵器と呼ばれる土器などの技術が伝わりました。6世紀には、儒教やb 仏教も伝えられ日本人の思想や信仰の形成に役立ちました。

[2]

c 奈良時代に唐の皇帝の影響を受けた聖武天皇は仏教の力で国を守ろうとし、地方に( 1 )を建て、都には東大寺を建てました。また、東大寺の正倉院には中国や朝鮮だけでなく、シルクロードを通過して伝わったインドや西アジアの文化の影響を受けた美術工芸品が収められています。この時代の国際色豊かな文化を( 2 )文化と呼びます。

[3]

天下統一を実現したd 豊臣秀吉は、明の征服を目指し、朝鮮に対して協力を求めました。朝鮮がこれを拒否したので、秀吉は1592年に大軍を朝鮮に送りました。これを( 3 )の役と呼びます。日本軍は、首都の漢城などを占領しましたが、義兵による抵抗や、李舜臣率いる水軍などの反撃により苦戦しました。秀吉は、明との講和に失敗すると、再び朝鮮に出兵をしましたが、秀吉の病死をきっかけに撤退をしました。

[4]

江戸時代の中期には、江戸幕府8代将軍のe 徳川吉宗がヨーロッパからの書物の輸入禁止をゆるめたことから、f オランダ語を通じて西洋の学問を学ぶ蘭学が盛んとなりました。その代表例として、杉田玄白らがオランダ語の医学書を翻訳した『( 4 )』などがあります。

[5]

19世紀後半の開国やg 明治維新をきっかけにヨーロッパから新しい思想や学問が紹介されました。例えば、社会契約説を唱えたフランスのルソーの思想を日本に紹介した( 5 )や、『学問のすすめ』を書いたことで知られる福沢諭吉らが活躍をしました。

[6]

太平洋戦争に敗北すると、日本はアメリカ軍を主力とする連合軍に占領されることになりました。( 6 )を最高司令官とする連合軍総司令部(GHQ)は、日本においてh 軍国主義を取り除き、民主主義を推進する政策を実行していきました。

問1 下線部aに関連して、日本は白村江の戦いで唐と朝鮮半島のある国の連合軍に敗北しますが、この朝鮮半島の国は何ですか、漢字で答えなさい。

問2 下線部bに関連して、仏教の受け入れをめぐって物部氏と対立し、これを倒したのは何氏ですか、漢字で答えなさい。

問3 下線部cについて、奈良時代のできごととして正しいものを下から1つ選び、記号で答えなさい。

ア. 大海人皇子と大友皇子が皇位をめぐって争う壬申の乱が起きた。

イ. 坂上田村麻呂が征夷大將軍に任命され、蝦夷と争った。

ウ. 藤原氏が摂政や関白の役職につくことによって朝廷での権力をにぎった。

エ. 口分田が不足してきたため、朝廷は三世一身の法を出した。

問4 空らん( 1 )に入る適切な語句を漢字3字で答えなさい。

問5 空らん( 2 )に入る適切な語句を漢字で答えなさい。

問6 下線部dについて、秀吉は一揆を防止するために百姓から武器を取りあげるように命じました。この命令を何と呼びますか、漢字3字で答えなさい。

問7 空らん（ 3 ）に入る適切な語句を漢字2字で答えなさい。

問8 下線部 e の徳川吉宗が行った享保の改革についての説明で正しいものを下から1つ選び、記号で答えなさい。

- ア. 大名に米を差し出させる代わりに、参勤交代の負担を減らす上げ米の制を実施した。
- イ. 江戸・大阪周辺の大名や旗本の領地を幕府領にしようとした。
- ウ. 朱子学を重んじ、湯島聖堂の学問所での人材の育成を行った。
- エ. 長崎での貿易を活発化させるために、倭物の輸出を促した。

問9 下線部 f に関連して、ヨーロッパの国のなかでもオランダだけが日本へ来航を許可された理由を説明しなさい。

問10 空らん（ 4 ）に入る適切な書物名を漢字で答えなさい。

問11 下線部 g について、明治維新で活躍した木戸孝允や山県有朋、伊藤博文は何藩の出身ですか、下から1つ選び、記号で答えなさい。

- ア. 薩摩藩           イ. 長州藩           ウ. 土佐藩
- エ. 肥前藩           オ. 水戸藩

問12 空らん（ 5 ）に適する人物名を下から1つ選び、記号で答えなさい。

- ア. 芥川龍之介       イ. 津田梅子       ウ. 中江兆民
- エ. 野口英世       オ. 森鷗外

問13 下線部 g に関連して、明治時代の日本と外国との関係として誤っているものを下から1つ選び、記号で答えなさい。

- ア. 江華島事件をきっかけに清に圧力をかけ、日清修好条規を結んだ。
- イ. 西郷隆盛らは、朝鮮に武力を用いて開国をさせようとする「征韓論」を主張した。
- ウ. 琉球の人々が殺害されたことを理由に台湾出兵を行った。
- エ. 岩倉具視を大使とする使節団が欧米に派遣された。

問14 空らん（ 6 ）に入る適切な人物名を答えなさい。

問15 下線部 h について、この占領期の政策として誤っているものを下から1つ選び、記号で答えなさい。

- ア. 日本経済を支配してきた三井・三菱・住友などの財閥が解体された。
- イ. 地主の土地を国が買い上げ、小作人に安く売り渡す農地改革を行った。
- ウ. 政治活動の自由を認め、満20歳以上の男子に限り選挙権を認めた。
- エ. 民主的な教育の基本原則を示した教育基本法が制定された。