

〔社 会〕

○ 実施時間 【10:40~11:20】(40分)

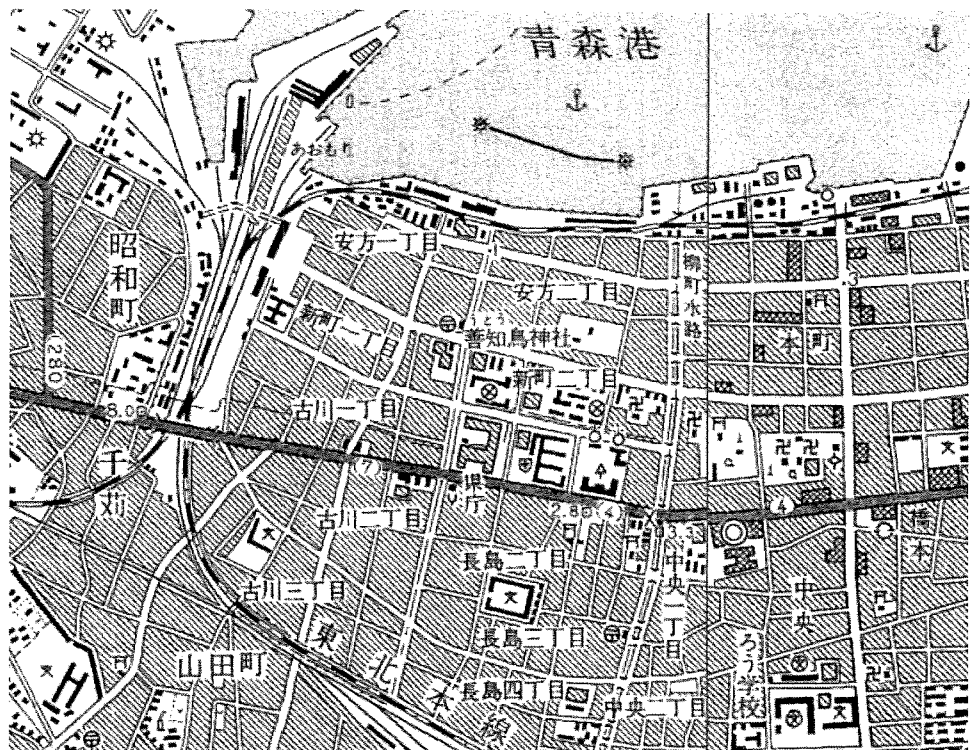
○ 次の注意をよく読んでおくこと。

- (1) 「始め」の合図があるまで問題用紙を開かないこと。
- (2) 問題は 1 ~ 5、15 ページまであります。
- (3) 答えはすべて解答用紙の解答らんにはっきりと、ていねいに書きなさい。
- (4) 答えを直すときは、きれいに消してから書きなさい。
- (5) 内容に関する質問は受け付けません。
- (6) 気分が悪くなったり、トイレに行きたくなったりしたら、手をあげて監督の先生に合図しなさい。
- (7) 「終わり」の合図があったら、直ちに筆記用具を置き、解答用紙が回収されるまで待っていなさい。
- (8) 解答上の注意
字数指定のあるものは、句読点〔。、〕も一字と数えること。

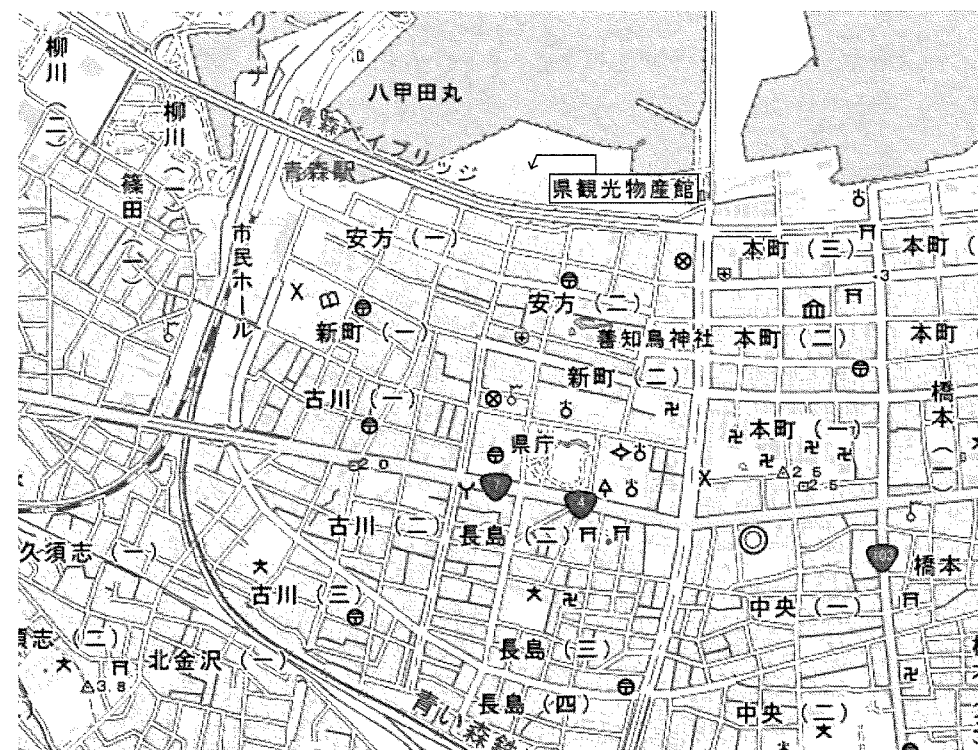
受験 番号		氏 名	
----------	--	--------	--

1 次の2つの地形図を見て、あとの問いに答えなさい。

①1970年の青森市の市街地（「今昔マップ on the web」より作成）



②2020年の青森市の市街地（「今昔マップ on the web」より作成）



問1 ①と②の地形図を比較して、読み取れる内容を述べた以下の文の正誤を判断して、正しい組み合わせを下のア～クから1つ選び、記号で答えなさい。

- A. 海岸が埋め立てられ、「県観光物産館」が建てられた。
- B. 都市の発達に合わせて、海岸沿いに線路が新たに作られた。
- C. 「県庁」に隣接して、新たに病院が建てられた。

	ア	イ	ウ	エ	オ	カ	キ	ク
A	正	正	正	正	誤	誤	誤	誤
B	正	正	誤	誤	正	正	誤	誤
C	正	誤	正	誤	正	誤	正	誤

問2 ②の地形図で見られない地図記号を下から1つ選び、記号で答えなさい。

- ア. 図書館
- イ. 老人ホーム
- ウ. 交番
- エ. 博物館
- オ. 裁判所

2 次の地図を見て、あとの問いに答えなさい。



問1 「あ」の県南西部から「い」の県北西部にかけて広がり、世界最大級のブナの原生林が見られ、1993年に世界遺産に登録された山地を何といいますか、解答らんに合うように漢字で答えなさい。

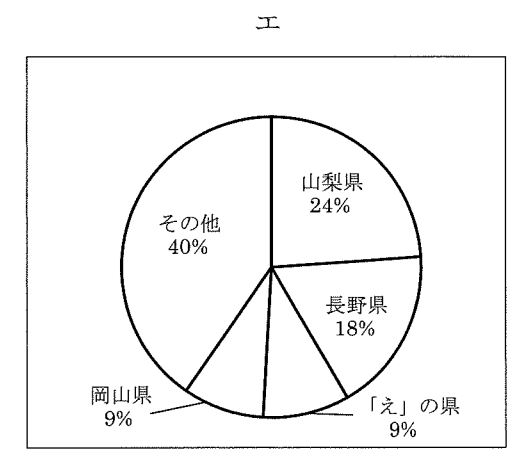
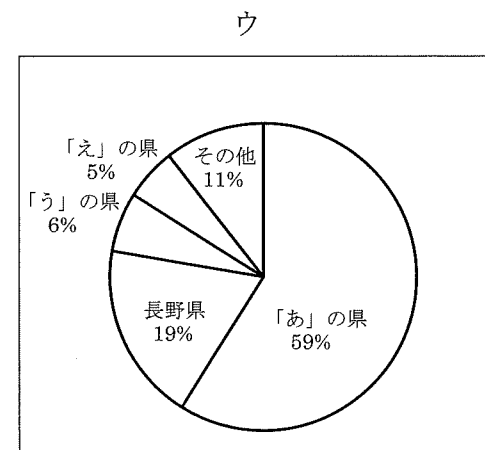
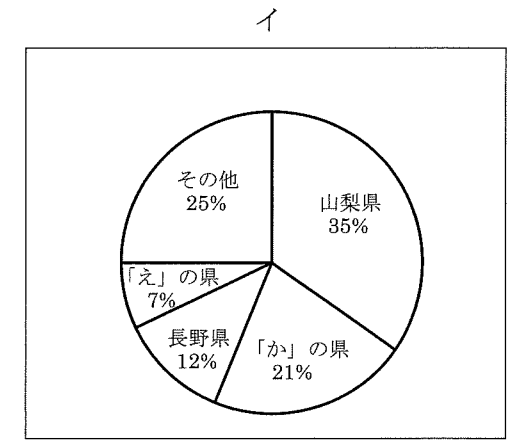
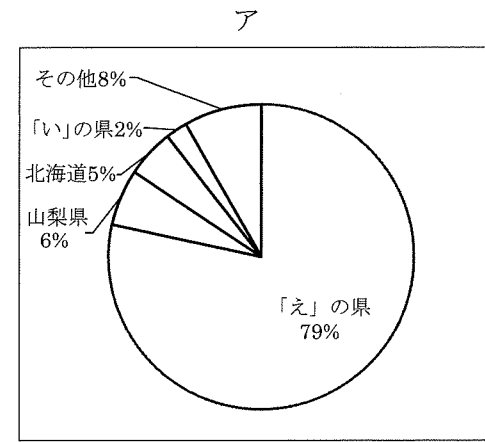
問2 「あ」の県から「お」の県にかけての海岸の一部ではリアス海岸が発達しています。この海岸を何といいますか、解答らんに合うように漢字で答えなさい。

問3 ①の半島の名前を何といいますか、解答らんに合うように漢字で答えなさい。

問4 ②の湖の名前として、正しいものを下から1つ選び、記号で答えなさい。

- ア. 十和田湖 イ. 田沢湖 ウ. 猪苗代湖
エ. 中禅寺湖 オ. 洞爺湖

問5 下のグラフはさくらんぼ・ぶどう・もも・りんごの都道府県別生産量割合（2017年）を示しています。さくらんぼのグラフとして正しいものを下から1つ選び、記号で答えなさい。

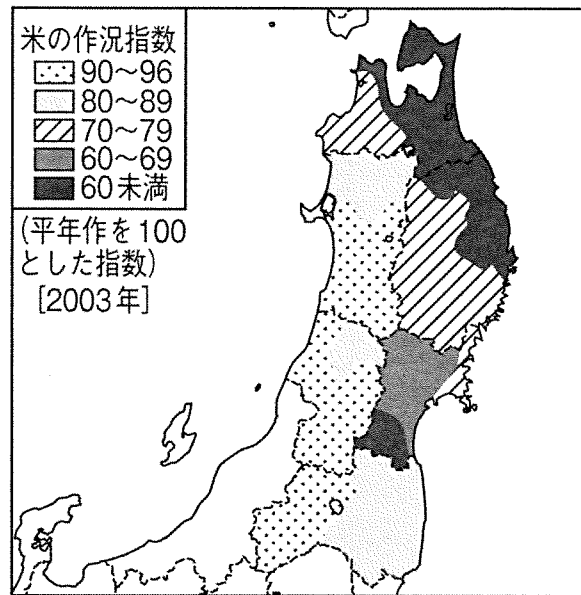


問6 東北地方では古くから伝統工芸品の生産がさかんに行われてきました。東北地方で作られる伝統工芸品と県の組み合わせとして正しいものを下から1つ選び、記号で答えなさい。

- ア. 「あ」の県－会津塗 イ. 「い」の県－信楽焼
 ウ. 「う」の県－南部鉄器 エ. 「え」の県－九谷焼
 オ. 「お」の県－西陣織

問7 東北地方は米の生産量が多いですが、天候の影響^{えいきょう}を大きく受けることがあります。下の図は2003年の東北地方の米の作況指数^{さつきょう}を示しています。このような数値となった原因とされる気象現象の名を答えなさい。

※作況指数…10 a 当たりの平年の収穫量を100として、その年の収穫量を表す指数のことを指す。



(農林水産省資料より作成)

問8 東北地方はある特定の製品を作る工場が多く立地していることから、シリコンロードと言われます。なぜそのように言われるのか、工場の種類を明らかにしたうえで説明しなさい。

3 2021年には第32回夏季オリンピックが東京で開かれました。次の表は2000年以降の夏季オリンピック開催地^{かいさいち}を開催年順にあらわしたものです。

開催年	開催場所 (国名)
2000	シドニー (オーストラリア)
2004	アテネ (A)
2008	北京 (中華人民共和国)
2012	ロンドン (イギリス)
2016	リオデジャネイロ (ブラジル)
2021	東京 (日本)
2024 (予定)	パリ (B)

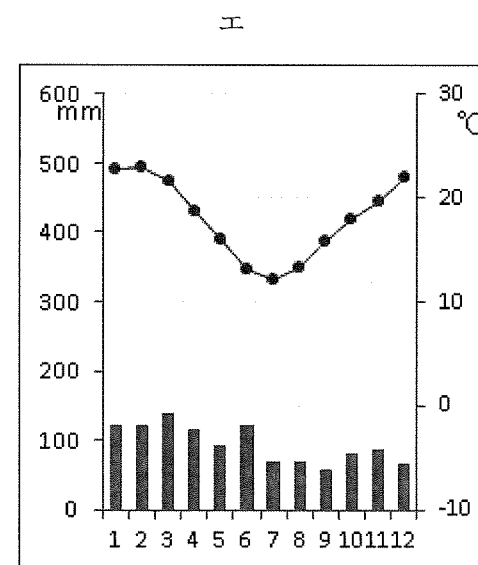
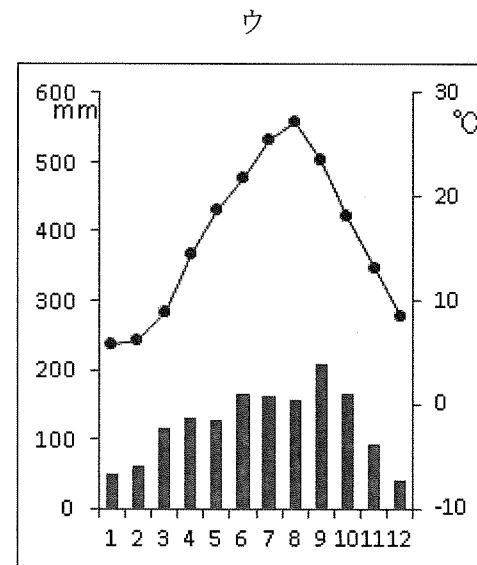
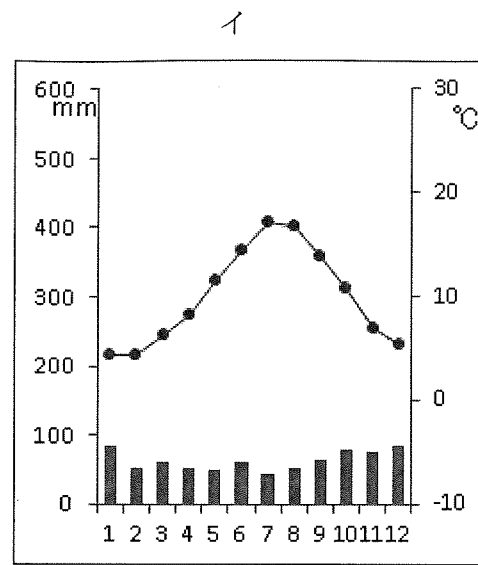
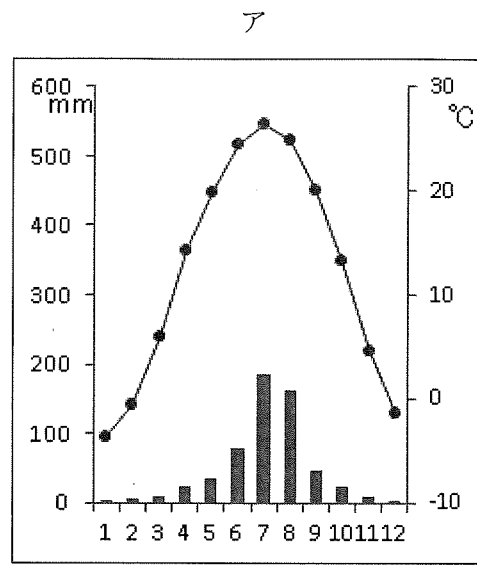
問1 表の (A) と (B) に当てはまる国名の組み合わせとして正しいものを、下のア～カから1つ選び、記号で答えなさい。

	(A)	(B)
ア	ギリシャ	フランス
イ	ギリシャ	イタリア
ウ	フランス	ギリシャ
エ	フランス	イタリア
オ	イタリア	ギリシャ
カ	イタリア	フランス

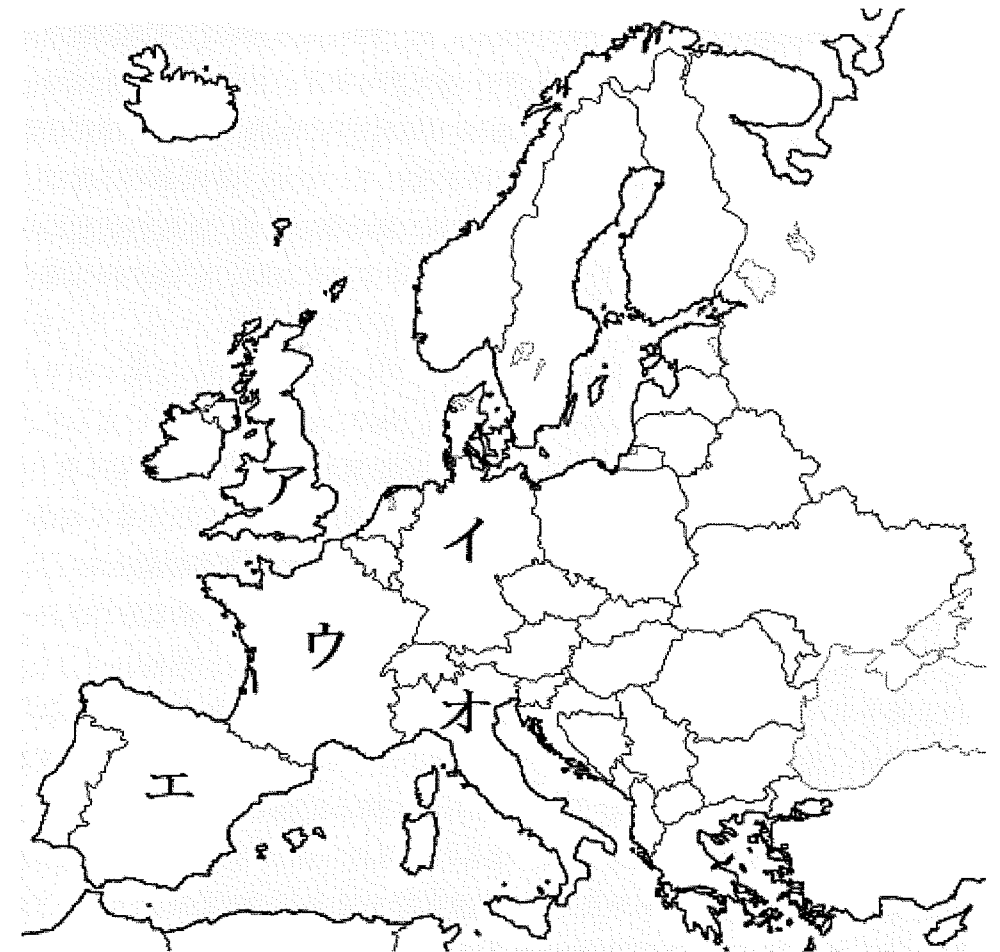
問2 中華人民共和国やブラジルは、2000年代以降に経済発展が進んでいるグループであるBRICSに含まれます。BRICSに含まれる国を、下から1つ選び、記号で答えなさい。

- ア. インド イ. サウジアラビア ウ. オーストラリア
 エ. アメリカ合衆国 オ. 大韓民国

問3 下の雨温図は東京・北京・シドニー・パリの雨温図です。シドニーの雨温図として正しいものを、下から1つ選び、記号で答えなさい。



問4 イギリスの位置として正しいものを下から1つ選び、記号で答えなさい。



4 次の文章を読み、あとの問いに答えなさい。

獨協中学校周辺の史跡を訪ねることにします。地下鉄有楽町線の江戸川橋駅を出ると、駅名のもとになった神田川にかかる江戸川橋があります。神田川の北岸には、目白台と呼ばれる台地がせまっています。台地との間は江戸川公園となり、神田川沿いに肥後細川庭園まで緑が続き、春には桜の名所となっています。肥後細川庭園は、江戸時代に大名細川家の下屋敷があったところです。細川家は、① 室町将軍家に仕えた家柄で、細川忠興は織田信長・② 豊臣秀吉・徳川家康に仕え、肥後藩細川家の初代となりました。

江戸川公園の西側に大滝橋があります。かつてこの付近の神田川には堰があり、江戸の町に水を供給していた神田上水を分水させて、滝がこの堰を落ちていました。現在は滝も堰も残っていませんが、地名の「関口」に名残をとどめています。さらに、上流に少し歩くと右手に関口芭蕉庵があります。江戸時代の俳人として有名な③ 松尾芭蕉が、一時期住んでいた場所です。芭蕉は伊賀国の出身で藤堂藩の家臣でしたが、藤堂藩が江戸幕府から神田上水の工事を命じられた時に、芭蕉も工事にたずさわったと言われています。

江戸川公園から目白台の台地に登っていく細い道が、目白坂です。江戸時代には清戸道ともよばれ、清戸（現在の清瀬市）の農民が、つくった野菜などを江戸へ運んで売りさばき、帰りには江戸の町で④ 肥料を仕入れて帰った道でした。目白坂の途中、現在はマンションとなっている場所には、地名の「目白」の由来となった目白不動尊をまつる新長谷寺という寺院がありました。戦災により新長谷寺はなくなりましたが、目白不動尊は西に約1 km離れた豊島区の金乗院に移され、まつられています。この金乗院の前の道は、⑤ 鎌倉街道とよばれ、北へすすむと鬼子母神まで続いています。

目白坂を登り切り、目白通りに合流したところの左手が椿山荘で、右手に獨協中学校があります。椿山荘の場所は、江戸時代には久留里藩黒田家の下屋敷で、明治維新後には内閣総理大臣をつとめた⑥ 山県有朋の邸宅となりました。この付近は、昔から椿の名所として椿山と呼ばれていたのを邸宅の名前にしたのです。獨協中学校は、⑦ ドイツの文化を取り入れることを目的につくられた獨逸学協会の事業として、1883年に設立された獨逸学協会学校がはじまりです。初代校長は哲学者として有名な西周で、2代目校長は（⑧）です。彼は、長州藩の出身で内閣総理大臣を3度つとめました。1913年の護憲運動の高まりで辞職に追い込まれました。第二次世界大戦後には、文部大臣をつとめた⑨ 天野貞祐が校長となり、獨協学園の発展に力をつ

くしました。

学校から鳥尾坂を下り、高速道路の下をくぐると音羽通りです。この直線の広い道は、将軍の護国寺参詣のためにつくられた道です。この通りを北にむかった突き当りが護国寺です。この寺は、1681年に⑩ 江戸幕府5代将軍の母桂昌院の願いによってつくられました。⑪ 東京大空襲でも被害を受けなかったことから、重要文化財の本堂など古い建物が残されていて、境内には山県有朋・⑫ 大隈重信といった歴史上重要な人物の墓もあります。音羽通りを挟んで向かい側の台地が小日向台です。この台地の貞静学園の付近には、地名「大塚」の由来となり「大塚」と呼ばれた⑬ 古墳がありました。また、縄文時代の⑭ 貝塚などの遺跡も分布していることがわかっています。

問1 下線部①について、将軍になった順番の古い方から並べるとどのようになりませんか、下から1つ選び記号で答えなさい。

- ア. 足利義満 → 足利尊氏 → 足利義政 → 足利義昭
- イ. 足利尊氏 → 足利義満 → 足利義政 → 足利義昭
- ウ. 足利義満 → 足利尊氏 → 足利義昭 → 足利義政
- エ. 足利尊氏 → 足利義満 → 足利義昭 → 足利義政

問2 下線部②の豊臣秀吉のおこなった政策で正しいものを下から1つ選び、記号で答えなさい。

- ア. 石山本願寺のあとに安土城を築いて統一への根拠地とした。
- イ. 小田原の武田氏をほろぼして天下統一を実現した。
- ウ. 摂政という高い地位となり朝廷の権威を利用して全国支配を行った。
- エ. 文禄の役・慶長の役と2度にわたって朝鮮に大軍を送った。

問3 下線部③の松尾芭蕉と同時代のことがらについて正しい文を下から1つ選び、記号で答えなさい。

- ア. 芭蕉の弟子の小林一茶は、作品『奥の細道』をのこした。
- イ. 浮世草子の作家井原西鶴は、『曾根崎心中』をあらわした。
- ウ. 人形浄瑠璃の脚本作家の近松門左衛門は、『日本永代蔵』をあらわした。
- エ. 浮世絵作家の菱川師宣は、『見返り美人図』を描いた。

問4 下線部④の肥料について、江戸時代には商品作物の栽培とともに様々な肥料が使用されましたが、江戸時代からさかんに使用されるようになった肥料ではないものを、下から1つ選び記号で答えなさい。

ア. 干鰯 イ. 草木灰 ウ. 油かす

問5 下線部⑤の鎌倉街道とは、幕府の置かれた鎌倉に通じる道のことですが、この街道が、整備された鎌倉時代の出来事を古い順番に並べるとどのようになりますか、下から1つ選び記号で答えなさい。

ア. 御成敗式目を制定した → 承久の乱が起こった
→ 文永の役が起こった → 永仁の徳政令を出した
イ. 御成敗式目を制定した → 承久の乱が起こった
→ 永仁の徳政令を出した → 文永の役が起こった
ウ. 承久の乱が起こった → 御成敗式目を制定した
→ 文永の役が起こった → 永仁の徳政令を出した
エ. 承久の乱が起こった → 御成敗式目を制定した
→ 永仁の徳政令を出した → 文永の役が起こった

問6 下線部⑥の山県有朋のおこなった政策として正しい文を下から1つ選び、記号で答えなさい。

ア. 近代的な軍隊をつくる準備をすすめ徴兵令をだした。
イ. 江戸時代の飛脚にかわる郵便制度をととのえた。
ウ. 議会の開設にそなえて立憲改進黨をつくった。
エ. 外務大臣として治外法権のとりやめに成功した。

問7 下線部⑦のドイツと日本との関係について正しい文を下から1つ選び、記号で答えなさい。

ア. 政府は、憲法制定の準備のために伊藤博文をヨーロッパに送り、君主権の強いドイツの憲法を学ばせた。
イ. ロシアは、日本の勢力が満州にのびることを恐れて、イギリス・ドイツと共に遼東半島の返還を日本に要求した。
ウ. 日本は、第一世界大戦後のベルサイユ条約でドイツが中国に持っていた遼東半島の利権を認められた。
エ. ドイツがポーランドに侵攻して第二次世界大戦がはじまると、日本はドイツやロシアと軍事同盟を結んだ。

問8 空らん(⑧)に入る人物名を漢字で答えなさい。

問9 下線部⑨が文部大臣であった1951年には、サンフランシスコで講和会議が開催されて平和条約が結ばれましたが、この時に日本の代表として条約を結んだ内閣総理大臣の名前を漢字で答えなさい。

問10 下線部⑩の江戸幕府5代将軍で、犬公方とも呼ばれ、動物愛護のための法令を出した将軍の名前を漢字で答えなさい。

問11 下線部⑪の東京大空襲のころの日本の状況について正しい文を下から1つ選び、記号で答えなさい。

ア. 働き手が不足すると学生は、学徒出陣として工場にかり出された。
イ. 小学生は空襲をさけるために、田舎から都市に集団疎開した。
ウ. 1945年4月にはアメリカ軍が沖縄本島に上陸した。
エ. 1945年8月9日には広島に原子爆弾が投下された。

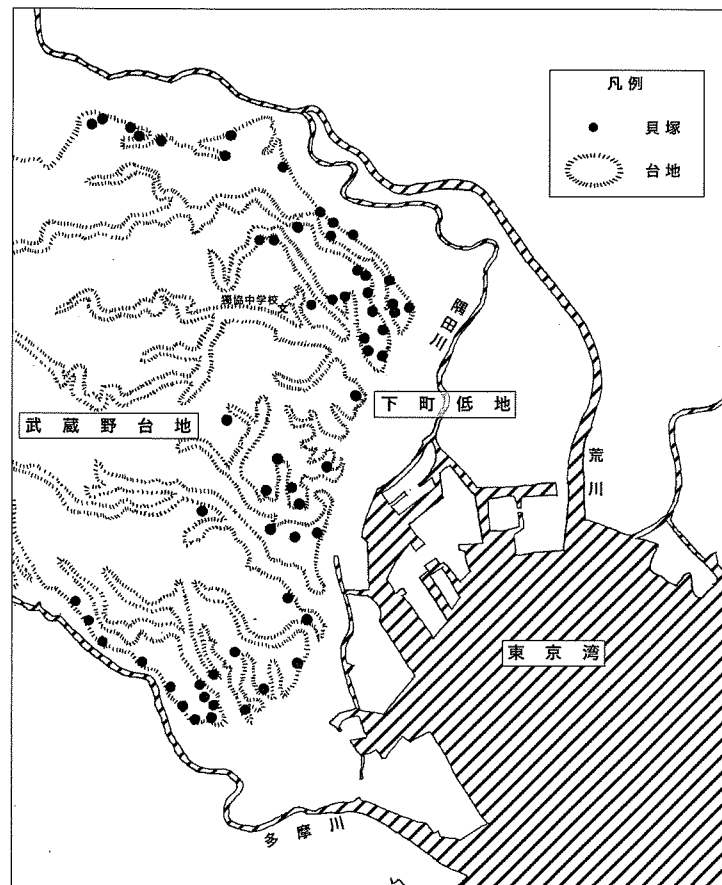
問12 下線部⑫の大隈重信は、日本で最初の政党内閣を板垣退助と共につくったとされますが、その後、最初の本格的な政党内閣をつくったとされる「平民宰相」ともよばれた人物の名前を、漢字で答えなさい。

問13 下線部⑬の古墳がつくられた時代について正しい文を下から1つ選び、記号で答えなさい。

- ア. 3世紀後半に大阪で、大和政権が成立した。
- イ. 最大の前方後円墳は、菅田御廟山古墳である。
- ウ. 前方後円墳は大阪を中心とする近畿地方のみに分布する。
- エ. 古墳の表面にはふき石が敷かれ、まわりには埴輪がならべられた。

問14 下線部⑭の貝塚について、下の問いに答えなさい。

1万2000年前くらいから気候が温かくなり、縄文時代がはじまりました。貝塚は、縄文時代の人々が食べた貝がらなどが積もってできたゴミ捨て場です。現在の東京での貝塚の分布を示したのが下の地図ですが、貝塚の分布の特徴から縄文時代の地形が現在とどのように違うのか、理由を含めて45字以内で説明しなさい。



5 次の文章を読み、あとの問いに答えなさい。

最近、日常生活の様々な場面で「SDGs (エスディージーズ)」という言葉が耳にすることが多くなりました。「SDGs」とは「Sustainable Development Goals (〔①〕な開発目標)」の略称で、2015年9月に②国際連合で開かれたサミットの中で、全会一致で世界のリーダーによって決められた国際社会共通の目標です。「③17の目標」と「169のターゲット(具体的な達成基準)」で構成され、「誰一人取り残さない」ことを目指し、〔④〕年までにすべての国が一丸となって、経済・社会・環境をめぐる広範囲な課題にわたって達成すべき目標とされています。

問1 空らん〔①〕に入る最も適切な語句を漢字4字で答えなさい。

問2 下線部②について、2021年3月現在の国際連合の加盟国数を数字で答えなさい。

問3 下線部③について、「17の目標」の中に「貧困をなくそう」「すべての人に健康と福祉を」というものがあります。下に示すものは、この考え方に通じる日本国憲法の条文です。この条文で保障されている権利を何といますか、漢字で答えなさい。

すべて国民は、健康で文化的な最低限度の生活を営む権利を有する。

問4 空らん〔④〕に入る最も適切な数字を下から1つ選び、記号で答えなさい。

- ア. 2025
- イ. 2030
- ウ. 2035
- エ. 2040
- オ. 2045

問5 外国政府との交渉や協力、国際連合その他の国際機関との協力など、外国と日本との良好な関係を築く役割を担う中央省庁の名前を漢字で答えなさい。