

〔社 会〕

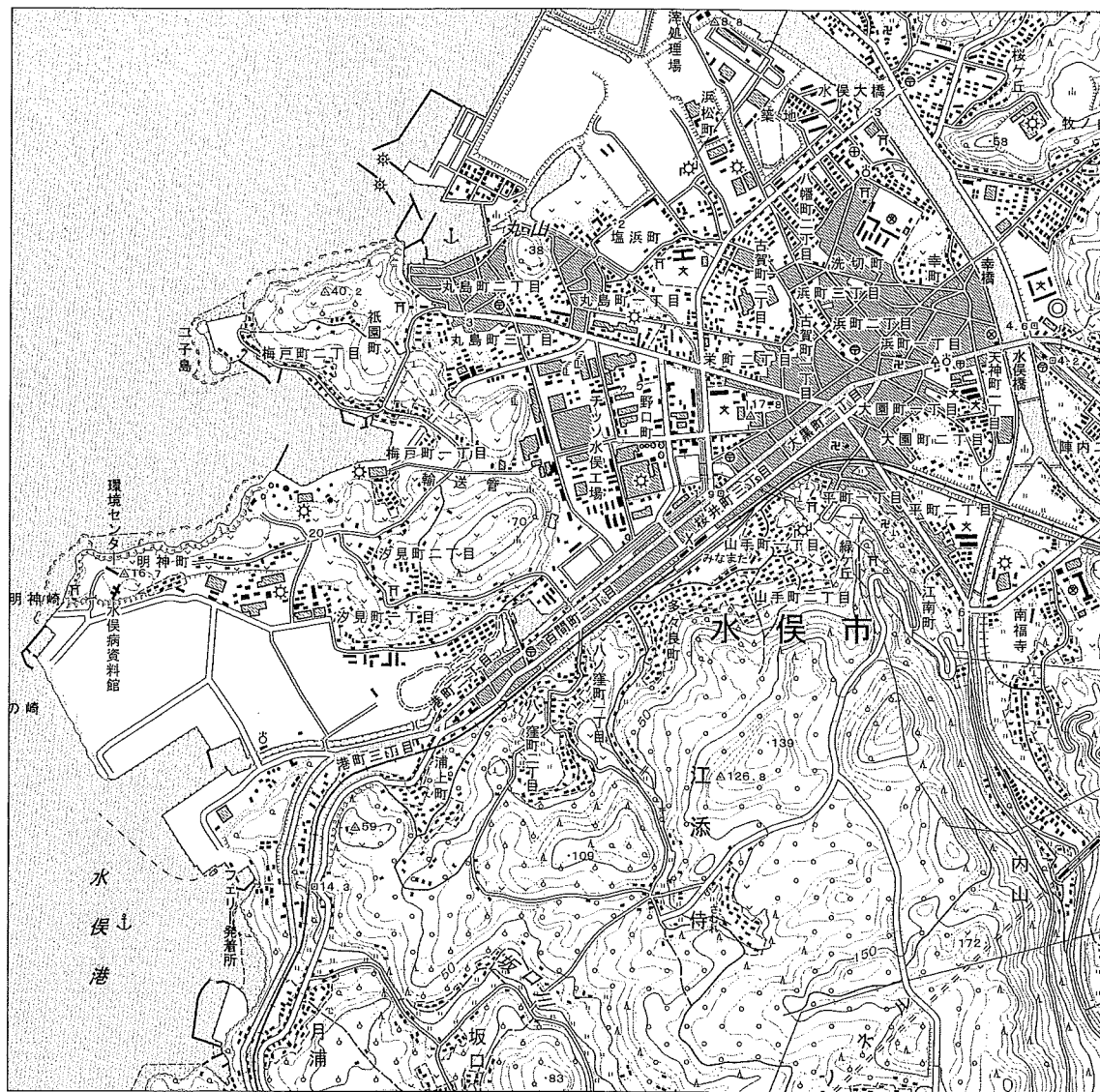
○ 実施時間 【10:40～11:20】(40分)

○ 次の注意をよく読んでおくこと。

- (1) 「始め」の合図があるまで問題用紙を開かないこと。
- (2) 問題は 1 ～ 4 , 11 ページまであります。
- (3) 答えはすべて解答用紙の解答らんにはっきりと、ていねいに書きなさい。
- (4) 答えを直すときは、きれいに消してから書きなさい。
- (5) 内容に関する質問は受け付けません。
- (6) 気分が悪くなったり、トイレに行きたくなったら、手をあげて監督^{かんとく}の先生に合図しなさい。
- (7) 「終わり」の合図があったら、直ちに筆記用具を置き、解答用紙が回収されるまで待っていなさい。
- (8) 解答上の注意
字数指定のあるものは、句読点〔。、〕も一字と数えること。

受験 番号		氏 名	
----------	--	--------	--

1 熊本県水俣市に関して、下の地形図（国土地理院 25000分の1地形図「水俣」平成16年3月13日発行）を見て、あとの問いに答えなさい。



問1 「みなまた」駅からみて、市役所はどの方角にありますか、適当なものをア～クから1つ選び、記号で答えなさい。

- ア. 東 イ. 西 ウ. 南 エ. 北 オ. 北東
カ. 北西 キ. 南東 ク. 南西

問2 「みなまた」駅から「水俣病資料館」までの間は、地形図上で8cmあります。実際の距離は何mあることになりですか、答えなさい。

問3 地形図の中に見られない地図記号を下から1つ選び、記号で答えなさい。

- ア. 裁判所 イ. 警察署 ウ. 消防署
エ. 病院 オ. 高等学校

問4 地形図から読み取れる内容について説明した以下の文のうち、正しい文はいくつありますか、適当なものをア～オから1つ選び、記号で答えなさい。

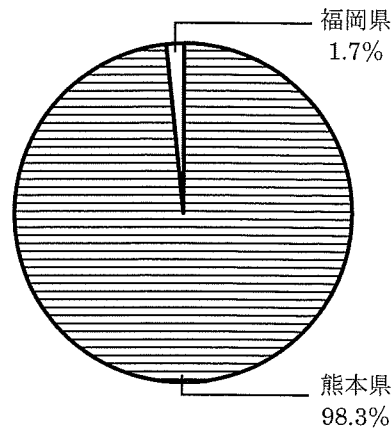
- ① 「汐見町二丁目」の周辺には茶畑が広がっている。
② 「幸町」の周辺には果樹園が広がっている。
③ 「南福寺」の周辺には水田が広がっている。
④ 「浦上町」の周辺には桑畑が広がっている。

- ア. 0個 イ. 1個 ウ. 2個 エ. 3個 オ. 4個

問5 水俣市がある熊本県は、農業がさかんに行われています。熊本県が生産量全国1位の農作物として適当なものを下から1つ選び、記号で答えなさい。

- ア. イチゴ イ. トマト ウ. ピーマン
エ. レモン オ. レタス

問6 下のグラフは、ある農作物の2016年の都道府県別収穫量の割合をあらわしています。量の原料に利用されることが多いこの作物名をひらがなで答えなさい。



『調べる！47都道府県 生産と消費で見る日本』同友館，2017年より作成

問7 熊本県には、世界でも有数の大きさのカルデラを持つ山があります。この山の名前を漢字で答えなさい。

問8 2016年には熊本県を中心とした地震が発生し、大きな被害が出ました。このような自然災害が起こった時に活用される被害予測図を何と言いますか、カタカナで答えなさい。

問9 地形図の中に「水俣病資料館」があります。水俣病について述べた以下の文のうち、**適当でない文**を下から1つ選び、記号で答えなさい。

- ア. 水俣病は生活排水に含まれていたカドミウムが原因で発生した。
- イ. 排水が流れ込んだ海では漁業に被害が出た。
- ウ. 汚染された魚を食べたことで人体への影響が見られた。
- エ. 裁判により住民への賠償を認める判決が出された。

問10 四大公害の中に、水俣病と同じ原因により発生した第二水俣病があります。第二水俣病はどの河川の流域で発生しましたか、適当なものを下から1つ選び、記号で答えなさい。

- ア. 神通川 イ. 最上川 ウ. 利根川
- エ. 木曾川 オ. 阿賀野川

問11 わが国では環境問題への関心の高まりから、開発をする前に環境への影響を調査・報告することが義務付けられました。このことを何と言いますか、解答らんに合うようにカタカナ6字で答えなさい。

問12 環境問題への対応を説明した以下の文章の空らん(1)・(2)に入る語句の組み合わせとして、適当なものを下から1つ選び、記号で答えなさい。

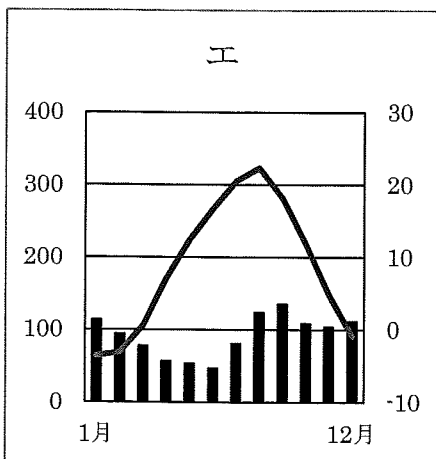
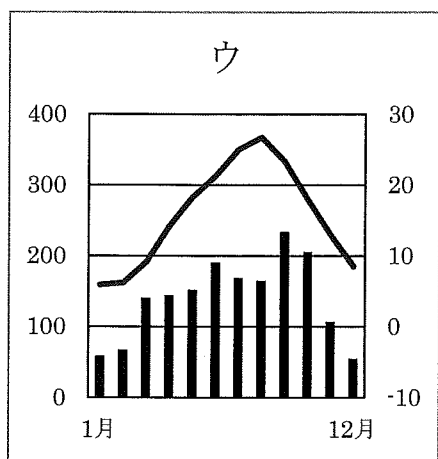
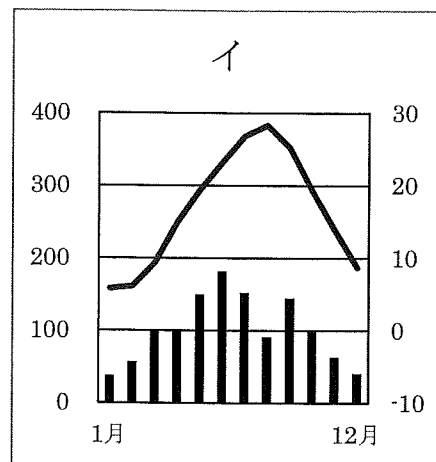
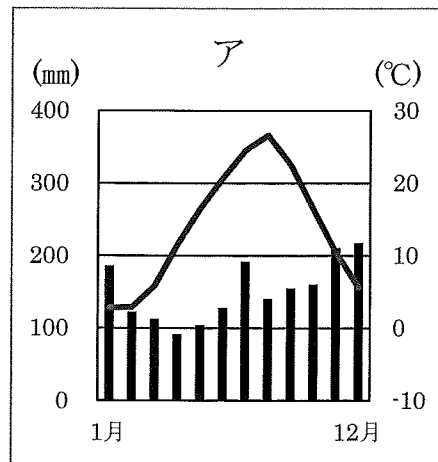
日本政府は環境問題に対応するため、1967年に(1)を制定し、1993年には新たに(2)を制定した。

	(1)	(2)
ア	環境基本法	自然環境保全法
イ	環境基本法	公害対策基本法
ウ	自然環境保全法	環境基本法
エ	自然環境保全法	公害対策基本法
オ	公害対策基本法	環境基本法
カ	公害対策基本法	自然環境保全法

問13 日本の公害は1950年代以降に多く発生するようになりました。その理由について当時の経済状況をふまえて、国・企業が何を優先したためか、説明しなさい。

2 日本国内の政令指定都市について、あとの問いに答えなさい。

問1 以下の雨温図は政令指定都市の札幌市・新潟市・横浜市・神戸市のもので、札幌市の雨温図として適当なものを、下から1つ選び、記号で答えなさい。



問2 日本国内には政令指定都市が20市あります。そのうち、都道府県庁所在地に指定されていない市はいくつありますか、下から1つ選び、記号で答えなさい。

ア. 0市 イ. 1市 ウ. 5市 エ. 9市 オ. 13市

問3 政令指定都市について説明した次の文のうち、適当なものを下から1つ選び、記号で答えなさい。

- ア. 政令指定都市になるには人口100万人以上が必要である。
- イ. 中国地方と四国地方には政令指定都市はない。
- ウ. 東京都にも政令指定都市がある。
- エ. 人口減少により政令指定都市の指定を取り消された市はない。

問4 政令指定都市がある都道府県のうち、次の①～③の文章が示す都道府県名をそれぞれ漢字で答えなさい。

- ① 漁業がさかんで、気仙沼港はサメの水揚げ量が多いことで知られている。また毎年8月に開かれる七夕まつりは多くの観光客を集めている。
- ② 全国で2位の人口を有している。また、自動車工業も発達し、日本でも有数の貿易港がある。
- ③ 工業が発達していて、楽器やオートバイの生産額が多い。また、浜名湖でうなぎの養殖がさかんにおこなわれている。

3 つぎの文章を読み、あとの問いに答えなさい。

- (1) この寺は a 平安時代、北東北地方一帯に勢力を誇った b 奥州藤原氏が財力を尽くし、整備・拡大した寺として有名です。数あるお堂の中の1つは「光堂」とも呼ばれ、本尊の阿弥陀如来が祀られていて、その下には奥州藤原氏三代の遺体が安置されています。
- (2) この神社は c 明治天皇とその皇后を祀っている社です。創建は d 大正時代ですが、本殿はその後、太平洋戦争末期の昭和20年4月、アメリカ軍の空襲で焼けたため、現在の本殿は戦後に再建されたものです。都心の一等地にあり、広大な敷地は、元は彦根藩主 e 井伊家の下屋敷でした。
- (3) この寺は幕末の f 江戸無血開城に不満をいだいた彰義隊によって引き起こされた上野戦争の舞台となったことで有名です。東京都港区芝公園の増上寺とともに徳川家の墓所があり、g 3代将軍徳川家光以来徳川家にとって特別な寺となり、15人の将軍のうち6人が眠っています。
- (4) この神社は日本三景の1つ「安芸の宮島」にあり、h 平清盛の保護をうけて発展しました。海上にせり出した現在の社殿は、戦国大名の毛利氏によって再建されています。
- (5) この神社は、源頼朝によって源氏の繁栄と i 鎌倉幕府の安泰を願う社として篤い信仰をうけてきました。この境内で、3代将軍源実朝が2代将軍の子どもによって暗殺されたことは有名です。
- (6) この寺は j 聖徳太子ゆかりの寺で、現存する世界で最古の木造建築です。釈迦三尊像や百済観音、夢殿など、飛鳥文化を代表する仏像や建築物があり、世界遺産に登録されています。

問1 文章(5)の神社の名称を下から1つ選び、記号で答えなさい。

- ア. 太宰府天満宮 イ. 北野天満宮 ウ. 鶴岡八幡宮
エ. 富岡八幡宮 オ. 石清水八幡宮

問2 下線部 a について、平安時代の内容の文として正しいものを下から1つ選び、記号で答えなさい。

- ア. 刑罰や政治の仕組みなどを定めた、大宝律令が完成した。
イ. 藤原頼通が宇治に、極楽浄土をこの世に表した平等院鳳凰堂を建てた。
ウ. 後醍醐天皇が公家中心の政治を進めようとして、建武の新政を行った。
エ. 市を独占していた商工業者の特権を取り上げ、楽市・楽座を行った。

問3 下線部 b について、奥州藤原氏の財力の源になっていたものは何ですか、下から1つ選び、記号で答えなさい。

- ア. 鉛 イ. 銀 ウ. 銅 エ. 金 オ. 錫

問4 下線部 c について、明治時代の文として誤っているものを下から1つ選び、記号で答えなさい。

- ア. 困窮した農民らが、借金の軽減や地租の免除などを求め、役所や高利貸しなどを襲った、秩父事件が起こった。
イ. ロシアのアジア方面への進出を防ぎ、イギリスの中国での権益を守る目的で日英同盟が結ばれた。
ウ. 政府が財政を安定させるため、地価の3パーセントを地租として土地所有者に現金で納めさせる、地租改正が行われた。
エ. 陸軍の青年将校が軍隊の一部を率いて首相や閣僚らを襲い、殺傷した二・二六事件が起こった。

問5 下線部 d について、大正時代は民主主義の実現を求める運動がおこり、これを大正デモクラシーと言いますが、当時、民本主義を唱えてこの運動を広めた学者は誰ですか、漢字で答えなさい。

問6 下線部 e の出身で幕末期に大老となった井伊直弼が、水戸藩などの浪人によって暗殺された事件を何と言いますか、解答らんにしたがって漢字で答えなさい。

問7 下線部 f について、西郷隆盛と会談し、江戸城を無血開城に導いた幕府側の代表は誰ですか、その人物の名前を漢字で答えなさい。

問8 下線部 g について、この人物が行った政策として正しいものを下から1つ選び、記号で答えなさい。

- ア. 参勤交代の制度を整え、鎖国を完成させた。
- イ. 禁中並公家諸法度を定め、天皇や公家を統制した。
- ウ. 生類憐みの令を發布し、社会を混乱させ、犬公方と呼ばれた。
- エ. 享保の改革を行い、幕府政治のゆるみや、財政難を打開しようとした。

問9 下線部 h について、平清盛は宋と貿易を活発化させようとして、ある港（現在の神戸港）の大修築を行いました。その港の当時の名称を漢字で答えなさい。


問10 下線部 i について、鎌倉時代の文として正しいものを下から1つ選び、記号で答えなさい。

- ア. 織田信長が本能寺において、明智光秀の攻撃によって自害した。
- イ. 将軍のあとつぎ問題から、京都を中心に10年間も続く戦乱が起こった。
- ウ. 足利義満が始めた明との貿易においては、勘合が用いられた。
- エ. 朝廷の勢力を取り戻そうとして、後鳥羽上皇が承久の乱を起こした。

問11 下線部 j について、聖徳太子が個人の能力に応じて位を授け、朝廷内での上下を決めた制度を何と言いますか、漢字で答えなさい。

問12 下線部 j について、聖徳太子を摂政に用いた天皇は誰ですか、漢字で答えなさい。

4 下の絵は19世紀末に起こった、ある戦争の開戦前の状況を表した風刺画です。この風刺画に関するあとの問いに答えなさい。



問1 風刺画の中の日本・朝鮮・中国3国の開戦前の状況を説明しなさい。

問2 風刺画のA国とはどの国を指しますか、下から1つ選び、記号で答えなさい。

- ア. イギリス イ. アメリカ ウ. ロシア
- エ. ドイツ オ. フランス

問3 この風刺画が描かれたのち、起こった戦争名を漢字で答えなさい。